

145

Муратов Евгений 7кл

ТТ-7-9

Задания школьного этапа всероссийской олимпиады по технологии (технический труд). 7 класс
30 баллов

1. Установите соответствие:

1.	Физические свойства древесины	A	цвет
		<u>Б</u>	прочность
		B	плотность
2.	Механические свойства древесины	Г	упругость
		Д	твёрдость
		E	запах

1. Б 2. Г 1 балл

2. Назовите данные, вносимые в основную надпись учебного чертежа.

1 балл

3. Объясните, что такое ЕСТД и ГОСТ?

ЕСТД - стандарты технологических форм и размеров деталей

1 балл

4. Установите соответствие:

1.	Конструктор	A.	Размножает чертежи
2.	Копировщик	B.	Выполняет чертежи
3.	Чертёжник	B.	Разрабатывает чертежи

1. - Б ; 2. - A ; 3. - B 1 балл

5. Назовите тип соединений, который чаще всего используют при изготовлении дверных и оконных переплётов?

1 балл

6. Выберите правильный ответ. К древнейшему виду обработки металла, известному еще до нашей эры, относят:

- 1. Токарную обработку;
- 2. Фрезерную обработку;
- 3. Ковку;
- 4. Электротравление.

1 балл

7. Установите соответствие.

1.	Лаки	A.	Олифа + сухой пигмент
2.	Масляные краски	B.	Лаки + сухой пигмент
3.	Эмали	B.	Смолы + растворители

1. Б 2. B 3. A 1 балл

8. Объясните. Для чего применяется инструмент давилка?

1 балл

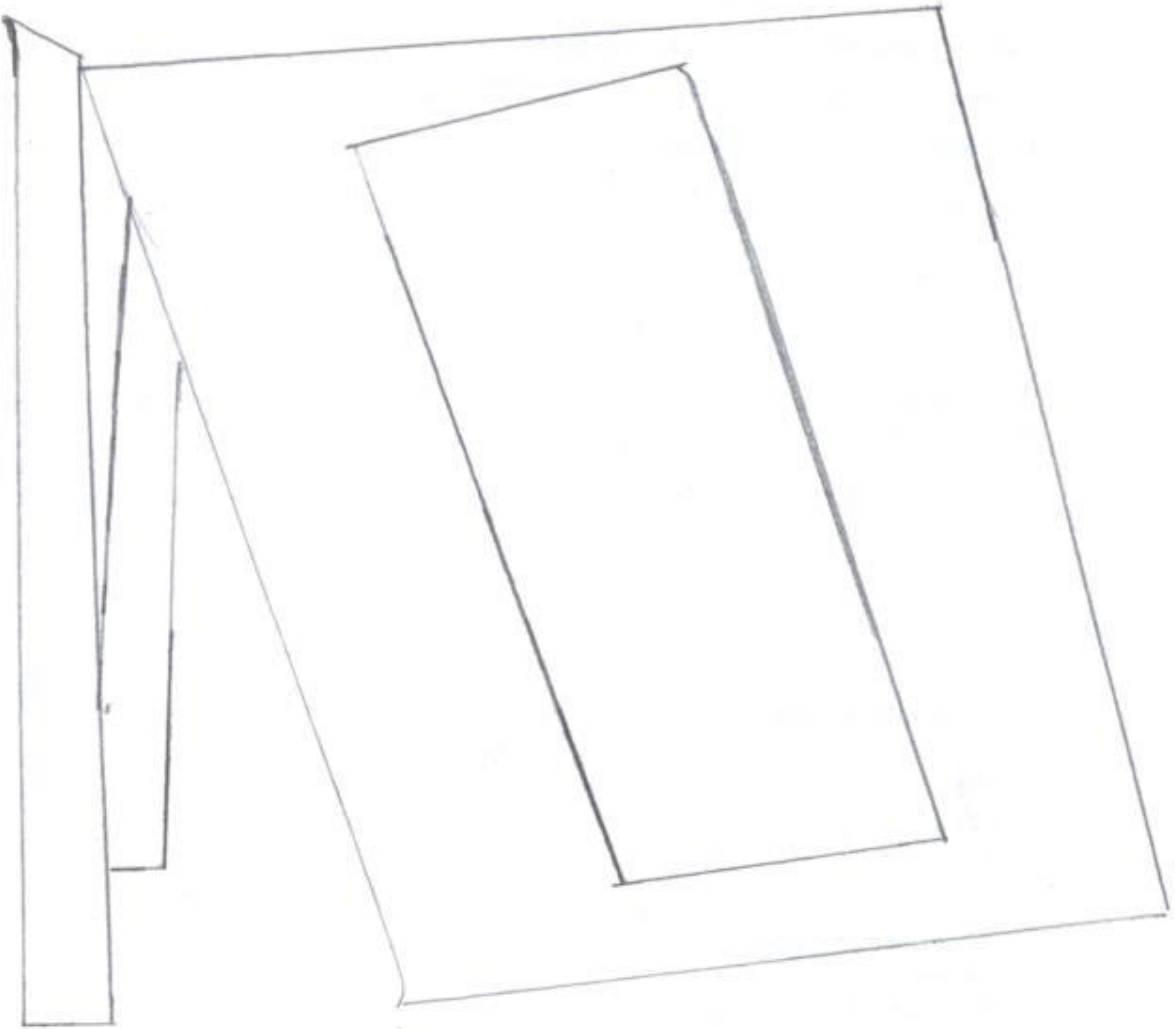
9. Установите соответствие.

1.	Сдельная оплата труда	A.	Сапожник в частной мастерской
2.	Повременная оплата труда	B.	Учитель в школе

1. A 2. B 1 балл

10. а) Выполните технический рисунок деревянной подставки для сотового телефона. б) Составьте технологическую карту на её изготовление.

20 (10+10) баллов



145

Задания школьного этапа всероссийской олимпиады по технологии (технический труд). 7 класс
30 баллов

ТТ-7-5
Егоров

1. Установите соответствие:

1.	Физические свойства древесины	A	цвет
		Б	прочность
		В	плотность
2.	Механические свойства древесины	Г	упругость
		Д	твёрдость
		Е	запах

1. ~~Б~~, В, Д 2. А, Г, Е 1 балл

2. Назовите данные, вносимые в основную надпись учебного чертежа.

виды, формат, диаметр масштаб и т.д. 1 балл

3. Объясните, что такое ЕСТД и ГОСТ?

Единая система технологических документации 1 балл

4. Установите соответствие:

1.	Конструктор	A.	Размножает чертежи
2.	Копировщик	Б.	Выполняет чертежи
3.	Чертежник	В.	Разрабатывает чертежи

1.- В ; 2.- Б ; 3.- А 1 балл

5. Назовите тип соединений, который чаще всего используют при изготовлении дверных и оконных переплётов? ветвь, ву, полетек, вдоль. 1 балл

6. Выберите правильный ответ. К древнейшему виду обработки металла, известному еще до нашей эры, относят:

1. Токарную обработку;
2. Фрезерную обработку;
3. Ковку;
4. Электротравление.

1 балл

7. Установите соответствие.

1.	Лаки	<u>В</u>	A.	Олифа + сухой пигмент	<u>А</u>
2.	Масляные краски	<u>Б</u>	Б.	Лаки + сухой пигмент	<u>Б</u>
3.	Эмали	<u>А</u>	В.	Смолы + растворители	<u>В</u>

1 балл

8. Объясните. Для чего применяется инструмент давилка? вдавливание металла 1 балл

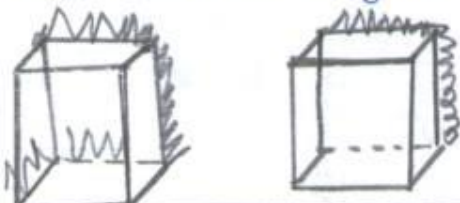
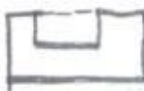
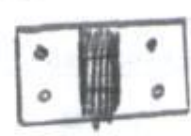



9. Установите соответствие

1.	Сдельная оплата труда	<u>А</u>	A.	Сапожник в частной мастерской	<u>А</u>
2.	Повременная оплата труда	<u>Б</u>	Б.	Учитель в школе	<u>Б</u>

1 балл

10. а) Выполните технический рисунок деревянной подставки для сотового телефона. б) Составьте технологическую карту на её изготовление.

20 (10+10) баллов

№	Чертежный код работы	инструмент	что мы делаем	линии
1		карандаш	убираем не ровное	пунктир
2		карандаш сталистая	делаем контур под линейку	пунктир. линии
3		по карандаш	размерная	линии.
4		отвертка шпатель	срезаем выступ	линии
5		карандаш лопатка краски	клеточка	убираем
6		краска	клеточка	убираем
		10 см	6 см 1 см	карандаш под линейку линии / 1 см / 2 см

Саратовский Юнион 5 кл
 Задания школьного этапа всероссийской олимпиады
 по технологии (технический труд). 5 класс
 30 баллов

T-T-5-3

1 2 Б

1. Вставьте пропущенное слово.

Без неё пойдёшь, отмерь-ка!
 Будет всё и вкривь и вкось.
 Деревянная линейка -
 Ваш помощник, а не гость!

1 балл

2. Выберите правильный ответ. В какой стране была изобретена бумага?

А. Россия, Б. Китай, В. США, Г. Германия.

1 балл

3. Что означает маркировка на простых карандашах: Т - твёрдый, М - мягкий, Н - нормальный.

1 балл

4. Установите соответствие.

1.	Режущие инструменты	А.	Стамески
		Б.	Линейки
		В.	Свёрла
2.	Измерительные инструменты	Г.	Пилы
		Д.	Циркули
		Е.	Транспортиры

1 балл

5. а) Назовите изображённые на рисунке геометрические тела. б) Приведите по 1 примеру любых предметов, в основе которых лежат представленные объёмные формы.

2 балла



1. куб 2. пирамида 3. стакан 4. конус

6. Выберите правильный ответ.

К спецодежде не относят: 1. Халат, 3. Фартук, 4. Наручники, 5. Косынку, 6. Панаму.

1 балл

7. Отметьте знаком «+» 1 правильный ответ.

- Работать у верстака следует только стоя
- Работать у верстака следует только сидя
- Работать у верстака следует стоя, и лишь некоторые виды работ можно выполнять сидя возле него на стуле.

1 балл

8. Установите соответствие.

1.	Пиломатериалы	А.	ДСП
		Б.	брус
		В.	фанера
2.	Древесные материалы	Г.	доска
		Д.	ДВП
		Е.	горбыль

1 балл

9. Назовите 5 предметов домашнего быта наших предков, которые обладали особой силой и помогли героям русских сказок в трудную минуту.

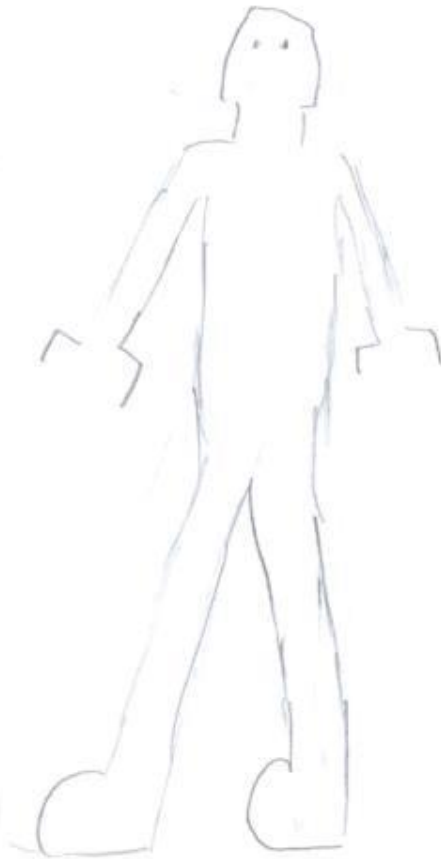
1 балл

10. а) Представьте и нарисуйте домашнего роботизированного помощника будущего. б) Под рисунком опишите его функции.

20 (10+10) баллов

ссылка, волшебный клубок,

Колосники для передвижения тяжёлых грузов



75